










Départ



STOP




ranger - intercaler  
lire - écrire  
décomposition des nombres

STOP

Passez un




Rejouez le





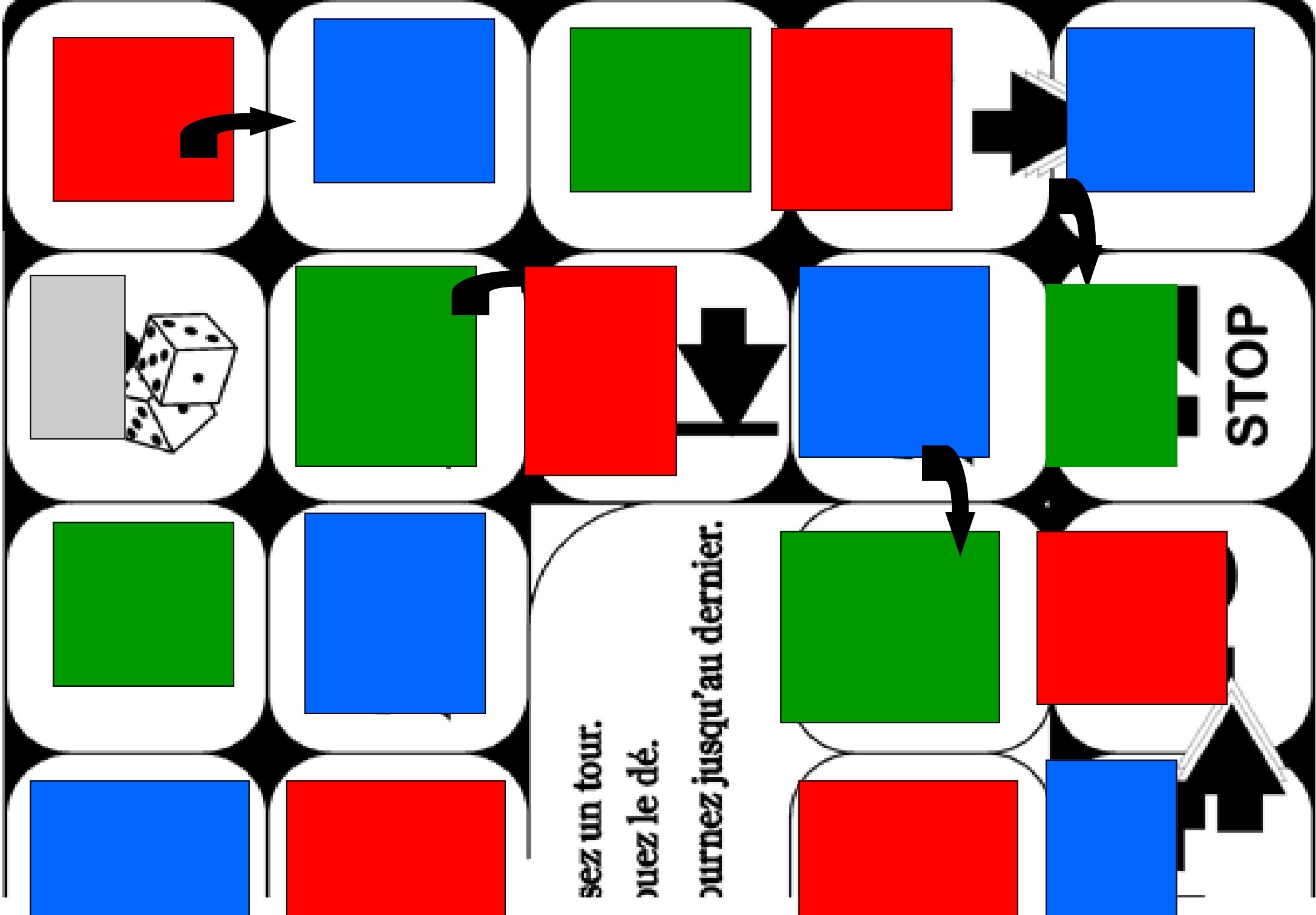
Retournez

30



Arrivée





Prenez un tour.

Lancez le dé.

Avancez jusqu'au dernier.

Je lis et j'écris le nombre:  
Six cent quinze

Je lis et j'écris le nombre:  
Deux cent vingt deux

Je lis et j'écris le nombre:  
Trois cent trois

Je lis et j'écris le nombre:  
Deux cent vingt quatre

Je lis et j'écris le nombre:  
Neuf cent quatre vingt dix neuf

Je lis et j'écris le nombre:  
Huit cent treize

Je lis et j'écris le nombre:  
 $60+800+4$

Je lis et j'écris le nombre:  
 $50+900$

Je lis et j'écris le nombre:  
 $700+60+4$

Je lis et j'écris le nombre:  
 $60+80+7$

Je lis et j'écris le nombre:  
 $900+7+9$

Je lis et j'écris le nombre:  
 $800+6+50+30+3$

Je lis et j'écris le nombre:  
690

Je lis et j'écris le nombre:  
201

Je lis et j'écris le nombre:  
699

Je lis et j'écris le nombre:  
274

Je lis et j'écris le nombre:  
633

Je lis et j'écris le nombre:  
788

Dans  
Huit cent quinze  
Quel est le chiffre des unités?

Dans  
Cent vingt cinq  
Quel est le chiffre des dizaines?

Dans  
Six cent six  
Quel est le chiffre des  
dizaines?

Dans  
Trois cent vingt trois  
Que représente le chiffre  
deux?

Dans  
Quatre cent vingt trois  
Que représente le chiffre  
quatre?

Dans  
Neuf cent huit  
Que représente le chiffre zéro?

Dans  
 $70+500+3$   
Quel est le chiffre des unités?

Dans  
 $70+90+2$   
Quel est le chiffre des dizaines?

Dans  
 $700+30+4$   
Quel est le chiffre des  
centaines?

Dans  
674

Quel est le chiffre des unités?

Dans  
143

Quel est le chiffre des dizaines?

Dans  
278

Quel est le chiffre des  
dizaines?

Dans  
 $60+800+2$

Que représente le chiffre  
deux?

Dans  
 $90+10+3$

Que représente le chiffre 1?

Dans  
 $900+2+60+10+7$

Que représente le chiffre  
neuf?

Dans  
472

Que représente le chiffre  
deux?

Dans  
172

Que représente le chiffre un?

Dans  
799

Que représente le chiffre neuf?

Quel est le nombre qui vient  
avant 900

Quel est le nombre qui vient  
avant  $90+600$

Quel est le nombre qui vient  
avant 675

Quel est le nombre qui vient  
après 679

Quel est le nombre qui vient  
après  $90+400+9$

Quel est le nombre qui vient  
après 413

Trouve l'intrus

145 ; 596 ; 432 ; 689

Trouve l'intrus

312 ; 145 ; 966 ; 978

Trouve l'intrus

697 ; 675 ; 688 ; 696

Range les nombre dans l'ordre décroissant :

215 ; 364 ; 124

Range les nombre dans l'ordre décroissant :

678 ; 345 ; 670

Range les nombre dans l'ordre croissant :

648 ; 696 ; 649

Intercale un nombre entre

267 ..... 597

Intercale un nombre entre

678 ..... 698

Intercale un nombre entre

699 ..... 721

Intercale un nombre entre

695 ..... 642

Intercale un nombre entre

632..... 698

Intercale un nombre entre

421 ..... 429